







- Виконайте обчислення. Зліва розташуйте тих птахів, де значення виразів менше ніж 5, а справа – більше ніж 5.

< 5

> 5

		
$10 - 8$	$8 - 1$	$3 + 1$
		
$4 + 5$	$6 - 3$	$2 + 4$